


1. SPRAWDŹ, KTO JEST NAJSZYBSZY



2. ROZWIĄŻ RÓWNANIE NARCIARZA

$$\text{okulary} + \text{okulary} + \text{okulary} = 30$$


$$\text{okulary} + \text{narci} + \text{narci} = 18$$

$$\text{narci} - \text{rękawiczki} = 2$$


$$\text{rękawiczki} + \text{okulary} + \text{narci} = ?$$

3. ŁAMIGŁÓWKA


Diagram uzupełnij obrazkami tak, aby nie powtarzały się w żadnym rzędzie poziomym, w żadnej kolumnie pionowej ani w żadnym małym czteropolewym kwadracie.



4. ROZWIĄŻ REBUS



~~łońce~~



ra = ter



g = żny

Hasło: